

КРЕЋЕМО СЕ



РЕШИ ЗАГОНЕТКУ

**Ко ујутру хода на четири
ноге, у подне на две, а увече
на три?**

Човек


Кретање



Кретање дешава свуда око нас и да се жива бића и неки предмети крећу.

Кретање

Ко ће пре стићи до циља?




Тела могу да се крећу брже или спорије.

Кретање

За тела која мирују кажемо да не мењају свој положај у односу на друга тела.

Мења свој положај у односу на дрво и дечака



Мирује у односу на вагон

Тело истовремено може да мирује у односу на нека тела и да се креће у односу на друга тела.

Решења задатака из радне свеске

Страна 110

1 Испод сваке слике упиши како се жива бића крећу.




лети



гмиже




плива



хода

- 2 Пажљиво погледај слику на којој се балон креће.
Заокружи слова испред тачне тврдње.



- а) Положај балона се мења у односу на људе који њиме управљају.
- б) Положај балона се мења у односу на обалу, планину и светионик на обали.
- в) Положај балона се не мења у односу на обалу.
- г) Положај балона се не мења у односу на људе на обали.

- 3 Стефан и Сава трче на стази. За исто време Стефан је прешао 50 m, а Сава 43 m. Ко је од њих брже трчао?

Брже је трчао Стефан.

- 4 Заокружи слово Т ако је тврдња тачна или Н ако је нетачна.

Лопта се љуља, а љуљашка се котрља.

Т Н

Играчке се померају ако се вуку, гурају и подижу.

Т Н

Само се људи крећу.

Т Н

Само се човек и животиње крећу.

Т Н

Жива бића и предмете може неко или нешто да покрене.

Т Н